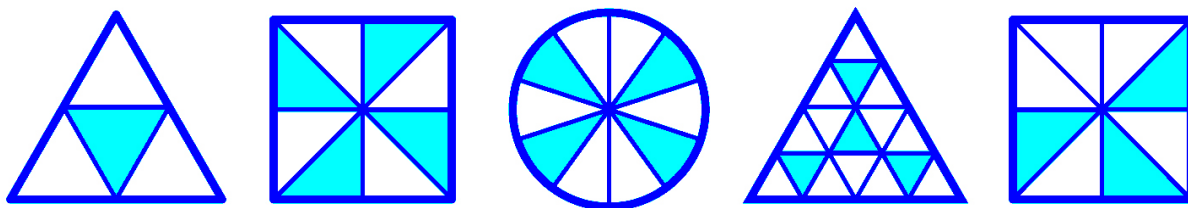


Úloha 0

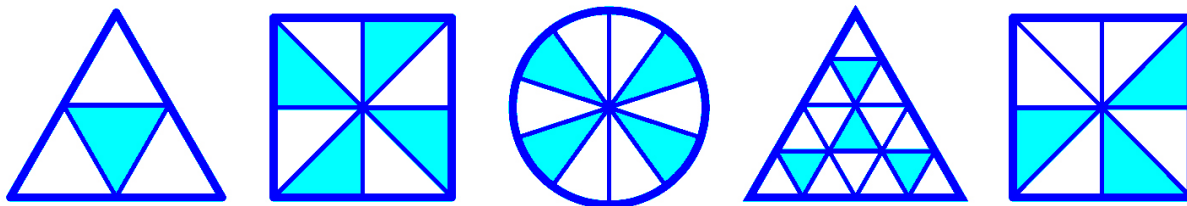
Každý útvar je rozdělen na několik shodných útvarů. Zjistěte, kolik procent je vybarveno.



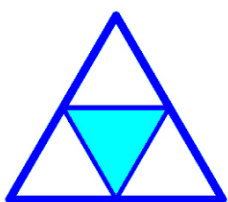
Pozor, na další stránce je řešení.

Úloha 0

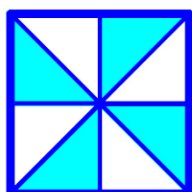
Každý útvar je rozdělen na několik shodných útvarů. Zjistěte, kolik procent je vybarveno.



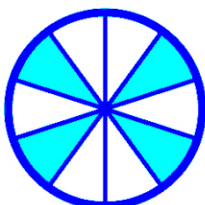
Řešení



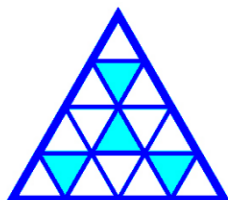
$$\frac{1}{4} = 0,25 = \mathbf{25\%}$$



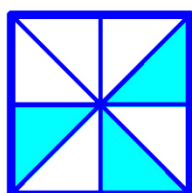
$$\frac{4}{8} = \frac{1}{2} = 0,5 = \mathbf{50\%}$$



$$\frac{4}{10} = 0,4 = \mathbf{40\%}$$



$$\frac{4}{16} = \frac{1}{4} = 0,25 = \mathbf{25\%}$$



$$\frac{3}{8} = 0,375 = \mathbf{37,5\%}$$